

Question Booklet

Subject: Hindi (Code:12)

Booklet Series: A

Question Booklet No. 183961

Important: Please consult your Admit Card/Roll No. slip before filling your roll number on the test booklet and OMR answer sheet

Roll No. in Figures:

--	--	--	--	--	--	--	--	--	--

Roll No. in Words: _____

OMR Answer Sheet Serial No. _____

Duration of Exam.: 2½ hours

Max. Marks: 200

The Question Booklet consists of 200 multiple choice questions as per the details given below:

Paper	Description	Medium
Objective type Paper 200 questions.	There are three sections – A, B & C.	
	Section-A (Languages): 40 questions Hindi - 20; General English - 20	Respective language
	Section-B: 80 questions Gen. Awareness-30; Gen.Intelligence,Numerical Ability & Reasoning-30; &Teaching Aptitude-20.	English and Hindi
	Section-C: (Knowledge of the Subject): 80 questions	Hindi

Signature of Candidate: _____ Signature of Invigilator: _____

In case there is any discrepancy/doubt in Hindi Version, please consult the English Version

DO NOT OPEN THE SEAL OF THE BOOKLET UNTIL ASKED TO DO SO.

(English Version)
Section – A (Languages)

1. 'ऋत - ऋतु' शब्द-युग्म में क्या अर्थ भेद है?
A) कठोर-मौसम B) मिथ्या-मौसम C) असत्य-मौसम D) सत्य-मौसम
2. 'सभा' शब्द का प्रयोग किस संज्ञा के अन्तर्गत आता है?
A) व्यक्तिवाचक B) जातिवाचक C) भाववाचक D) द्रव्यवाचक
3. संज्ञा की व्याप्ति किससे मर्यादित होती है?
A) सर्वनाम B) क्रिया C) विशेषण D) समास
4. निम्नलिखित में से कौनसा शब्द स्त्रीलिंग है?
A) कपड़ा B) रात C) गाना D) नेत्र
5. निम्नलिखित में से कौनसा शब्द पुल्लिंग है?
A) साँकल B) सभा C) व्याख्यान D) दक्षिणा
6. पुल्लिंग-स्त्रीलिंग के युग्म में से कौनसा युग्म सही नहीं है?
A) बालक-बालिका B) मिहतर-मिहतरी C) गूँगा-गूँगी D) नर-नारी
7. कौनसा शब्द सदैव एकवचन में प्रयोग होता है?
A) धन B) सोना C) मात्र 'A' D) 'A' व 'B' दोनों
8. संज्ञा के किस रूप से किसी को पुकारने का बोध होता है?
A) संबंध-कारक B) संप्रदान-कारक C) संबोधन-कारक D) अपादान-कारक
9. सन्धि कितने प्रकार की होती है?
A) दो B) तीन C) चार D) पाँच
10. अशुद्ध वर्तनी विकल्प कौन सा है?
A) उज्जवल B) संन्यासी C) स्वयंवर D) सज्जन
11. कौनसा शब्द 'आकाश' का पर्यायवाची नहीं है?
A) गगन B) नभ C) अवनि D) अम्बर
12. 'विधि' का सही विलोम क्या है?
A) निषेध B) कानून C) कर्म D) नास्तिक
13. 'ज्येष्ठ' का विलोम क्या है?
A) कनिष्ठ B) अवर C) अग्रज D) प्रवर
14. सही सन्धि-विच्छेद का चयन कीजिए -
A) महा - ऊदय B) महा + उदय C) महो + दय D) महा + ओदय
15. निम्नलिखित में से अशुद्ध सन्धि का चयन करें -
A) राजन् + आज्ञा = राजाज्ञा B) वि + स्मरण = विसमरण
C) धनिन् + त्व = धनित्व D) निः + चल = निश्चल
16. 'कलम तोड़ देना' मुहावरे का सही अर्थ है -
A) लिखना-पढ़ना त्याग देना B) अत्यन्त क्रोधित होना
C) अत्यन्त मार्मिक व प्रभावशाली रचना करना D) लिखने से घृणा करना

17. 'नीम हकीम खतरे जान' कहावत का सही अर्थ है-
 A) अधकचरा ज्ञान नुकसान देता है
 B) जड़ी बूटी से इलाज करना
 C) नीम का उपयोग सभी हकीम करते हैं
 D) हकीम से उपचार करवाना
18. आवश्यकता से अधिक धन-सम्पत्ति एकत्र न करना - वाक्यांश के लिए एक शब्द लिखें-
 A) कृपणता
 B) अपरिग्रह
 C) सदाचार
 D) अस्तेय
19. 'चाकू' शब्द कौन सी भाषा से हिन्दी में आया है?
 A) अरबी
 B) तुर्की
 C) फारसी
 D) पोर्चुगीज
20. असंगत वाक्य छांटिए :
 A) जिस समास में पहला पद प्रायः प्रधान होता है उसे अव्ययीभाव समास कहते हैं ।
 B) जिस समास में दूसरा पद प्रायः प्रधान होता है उसे तत्पुरुष समास कहते हैं ।
 C) जिसमें कोई भी पद प्रधान नहीं होता उसे द्वन्द्व समास कहते हैं।
 D) जिस समस्त पद में कोई पद प्रधान नहीं होता तथा दोनों मिलकर किसी तीसरे पद की ओर संकेत करते हैं उसे बहुव्रीहि समास कहते हैं ।

Directions Qs. 21-24: Choose the opposite of the given word out of the four options:-

21. Jeune
 A) Sophisticated
 B) Arrogant
 C) Delightful
 D) Indifferent
22. Jeopardy
 A) Validity
 B) Safety
 C) Piety
 D) Tactfulness
23. Obfuscate
 A) Complicate
 B) Eclipse
 C) Clarify
 D) Anticipate
24. Inveigh
 A) Liberate
 B) Suggest
 C) Equivocate
 D) Support

Directions Qs.25-28: Choose the correct preposition, out of the four options, to be filled in the blanks:-

25. Shyam is ignorant ____ his mistake.
 A) of
 B) to
 C) for
 D) at
26. His speech was appropriate ____ the occasion.
 A) upon
 B) to
 C) about
 D) for
27. Kalim's behavior is subversive ____ discipline.
 A) with
 B) about
 C) of
 D) for
28. Radhika's aptitude ____ business cannot be doubted.
 A) to
 B) about
 C) at
 D) for

Directions Qs.29-32: In these questions, four alternatives are given for the italicized idioms. Choose the alternative which best expresses the meaning of the idiom:-

29. *A fly on the wheel*
 A) a person who overestimates her/his importance
 B) a person who cautions the people
 C) a person who is hostile to all
 D) a person who entertains others
30. *Fly off the handle*
 A) attack someone's enemies
 B) lose one's temper suddenly
 C) make one's escape
 D) run away from the difficult situation

31. *Keep the wolf off the door*
 A) keep her secrets intact B) keep protesting against the times
 C) keep off starvation D) keep working with utmost speed
32. *To be under the harrow*
 A) to work hard B) to be awarded for honesty C) to be in good health D) to be in distress

Directions Qs.33-36: Choose the correct synonyms of the following words out of the four given options:

33. Diaphanous
 A) silken B) tired C) kind D) thick
34. Expostulate
 A) infer B) disagree C) remit D) simmer
35. Improvised
 A) imprudent B) incautious C) unstudied D) oblivious
36. Maverick
 A) materialist B) spiritualist C) selfish D) nonconformist

Directions Qs.37-40: Choose the correct form of the following words as the given part of speech out of the four options:

37. Above as noun:
 A) Our blessings come from above B) The heavens are above
 C) The moral law is above the civil D) Analyse the above sentence
38. Down as noun:
 A) Down went the "Titanic" B) Shyam has seen the ups and downs of life
 C) The porter was killed by the down train D) The engine came rushing down the hill
39. But as adverb:
 A) None but the brave deserve the honour B) We tried hard, but did not succeed
 C) It is but right to admit our faults D) There is no one but likes him
40. After as adjective :
 A) They arrived soon after B) He takes after his father
 C) We went away after they had left D) After ages shall sing his glory

Section – B

41. Superconductivity is a material property associated with:
 A) cooling a substance without a phase change B) frictionless liquid flow
 C) a loss of thermal resistance D) a loss of electrical resistance
42. A type of plastic that is biodegradable and has been in the news lately. The ingredient that makes it biodegradable is :
 A) vegetable oil B) petroleum C) corn starch D) leather
43. How many Dynes are there in one gram weight?
 A) 900 B) 375 C) 981 D) 250
44. If the distance between the earth and the sun were twice what it is now, the gravitational force exerted on the earth by the sun would be:
 A) twice as large as now B) four times as large as it is now
 C) half of what it is now D) one-fourth of what it is now

45. Who was the first Indian to be selected to the British Parliament?
A) Dadabhai Naoroji B) G.K. Gokhale C) Bipin Chandra Pal D) Lala Lajpat Rai
46. Which of the following Rajput dynasties did not surrender to Akbar?
A) Parmar B) Pratihara C) Rathor D) Sisodiya
47. Which of the following is not a classical language of India ?
A) Sanskrit B) Telugu C) Hindi D) Malayalam
48. The scientific study of ageing is known as :
A) Etiology B) Gerontology C) Osteology D) Teratology
49. Which Indian artist decorated the handwritten copy of the Constitution?
A) Nandalal Bose B) Mihir Sen C) S. N. Banerji D) Mukesh Bhandopadhyaya
50. Preamble of the Indian Constitution has been amended
A) Once B) Twice C) Thrice D) Never
51. Which of these are nicknamed 'Bretton Woods Twins'?
1. IDA 2. IMF 3. IBRD 4. WTO
A) 1 & 4 B) 3 & 4 C) 2 & 4 D) 2 & 3
52. Section -498A of Indian Penal Code is a popular section. It deals with:
A) Property rights to women B) Reservations for women
C) Harassment for dowry D) Kidnap and rape
53. The United Nations climate change conference COP19 or CMP9 was held in November 2013 at:
A) Paris B) Warsaw C) Montreal D) Kyoto
54. The number of approved share markets in India is :
A) 19 B) 20 C) 23 D) 24
55. Which of the following state has been brought into the railway network for the first time?
A) Manipur B) Assam C) Tripura D) Arunachal Pradesh
56. Who among the following has recently been selected for the coveted Indira Gandhi Prize for Peace Disarmament and Development for 2013 ?
A) Ila Bhatt B) Medha Patkar C) Angela Merkel D) Chandi Prasad Bhatt
57. Victoria Azarenka, who won the Australian Open Tennis women's singles title 2012 is from:
A) USA B) Belarus C) Germany D) Slovakia
58. The National Sports Day is observed on :
A) August 29th B) July 29th C) September 29th D) August 20th
59. Sonal Mansingh is famous for which form of dance?
A) Bharatnatyam B) Manipuri C) Kuchipudi D) Kathak
60. Ms. Meera Sahib Fathima Beevi is distinguished as the first lady
A) Judge of the High Court B) Governor of a State
C) Judge of the Supreme Court D) Prime Minister of Bangladesh
61. The maximum poll expenditure for a Lok Sabha seat has been raised by the Union Cabinet on the suggestion of the Election Commission of India:
A) From Rs. 30 lacs to Rs. 70 lacs B) From Rs. 40 lacs to Rs. 70 lacs
C) From Rs. 50 lacs to Rs.70 lacs D) From Rs. 40 lacs to Rs. one crore
62. Which of the following agencies determine ranking of the countries in accordance with Economic Freedom Index ?
A) World Economic Forum B) UNDP
C) Heritage Foundation & Wall Street Journal D) World Bank

63. When is the World Population Day observed?
 A) May 31 B) July 11 C) Oct. 4 D) Dec. 10
64. What was the highest individual score, in an innings in ICC T20 World Cup 2014?
 A) 101 B) 106 C) 111 D) 116
65. Fiscal Policy is related to:
 A) Money supply in the economy B) Regulation of the banking system
 C) Planning for economic development D) Government's Revenue and Expenditure
66. Which American President has recently painted a portrait of Dr. Manmohan Singh?
 A) Barack Obama B) George Bush C) Bill Clinton D) Ronald Reagan
67. Which is the largest economy in African Continent?
 A) South Africa B) Nigeria C) Algeria D) None of the above
68. Who wrote 'Why I am an Atheist'?
 A) Subhash Chandra Bose B) Khushwant Singh C) Bhagat Singh D) Madan Lal Dhingra
69. The recently set-up 7th Central Pay Commission is headed by
 A) Ashok Kumar Mathur B) G.K. Chadha
 C) Montek Singh Ahluwalia D) Ajit Prakash Shah
70. National Rural Employment Scheme was launched throughout the country from :
 A) 1.04.2007 B) 02.10.2007 C) 14.11.2007 D) 01.04.2008
71. 'England' is related to 'Atlantic Ocean' in the same way as 'Greenland' is related to:
 A) Pacific Ocean B) Atlantic Ocean C) Arctic Ocean D) Antarctica Ocean

Direction Qs.Nos.72-73: Choose one of the four given alternatives that shows the same relationship as is found between the two letters/numbers to the left of the sign ::

72. FJUL : BOQQ :: LHRX : ?
 A) BKPR B) MNCC C) HRYY D) HMNC
73. 9 : 162 :: 8 : ?
 A) 162 B) 128 C) 96 D) 112
74. Choose the group of words that shows same relationship as is given in the question :
 Correspondent : News : Newspaper
 A) Farmer : Crops : Food B) Mason : Cement : Construction
 C) Cloud : Water : Ponds D) Road : Vehicle : Destination

Direction (Q.Nos. 75-76): Three of the four alternatives given are same in a certain way and so form a group. Find the odd one that does not belong to the group:

75. A) 62 B) 42 C) 152 D) 110
76. A) Java B) Sri Lanka C) Malaysia D) Cuba
77. In a certain code language, 'lu ra de' means 'what was it'; 'mo nil' means 'you go'; 'nil pam ra' means 'you like it' and 'tok lu fo' means 'she was sick'. How will you write 'what you like' in that code ?
 A) nil ra lu B) pom nil ra C) pom ra lu D) de nil pam
78. If 'MOUSE' is coded as "PRUQC", then how is 'SHIFT' written in the same code?
 A) VKIRD B) VKIDR C) VJIDR D) VIKRD
79. How many meaningful English words can be made with the letters 'ATLE' using each letter only once in each word?
 A) Two B) Three C) Four D) More than four

80. 36 vehicles are parked in a parking lot in a single row. After the 1st car, there is one scooter, after 2nd car there are two scooters, after 3rd car there are three scooters and so on. Work out the number of scooters in the second half of the row.
A) 10 B) 12 C) 15 D) 17

Direction (Q.Nos. 81-83): Six plays A,B,C,D, E and F are to be organized from 2nd June to 7th June, i.e. Monday to Saturday – one play each day. There are two plays between C and D and one play between A and C. There is one play between F and E and E is to be organized before F. B is to be organized before A, not necessarily immediately. The sequence of plays does not start with B.

81. The sequence of plays would start from which play ?
A) A B) F C) D D) Can't be determined
82. On which date is play E to be organized ?
A) 2nd B) 4th C) 3rd D) Can't be determined
83. The sequence of plays would end with which play ?
A) A B) D C) B D) Can't be determined
84. B, C, D, E, F, G, H, J are sitting around a circle facing the centre . B is an immediate neighbour of F and C. E is second to the left of F. G is second to the right of C. D is not an immediate neighbour of G. There are two persons between C and J. How many persons are between C and D?
A) 2 only B) 4 only C) 5 only D) either 2 or 4
85. If 'A + B' means that A is the father of B; 'A–B' means that A is the wife of B; 'A × B' means that A is the brother of B and 'A ÷ B' means that A is the daughter of B. Then which of the following is true for $P \div R + S + Q$?
A) P is the daughter of Q B) Q is the aunt (Father's sister) of P
C) P is the aunt (father's sister) of Q D) P is the mother of Q
86. Q's mother is the sister of P and daughter of M. S is the daughter of P and sister of T. How is M related to T?
A) Maternal Grandmother B) Father C) Maternal Grandfather D) Option (A) or (C)
87. Ram starts walking towards East from a point 'S' and after walking 15 m turns to his left and walks 10 m, again he walks 10 m turning to his left and finally walks 22 m turning to his left and reaches a point 'Q'. How far and in which direction is he from the point 'S'?
A) 15 m South B) 22 m South-East C) 12 m South D) 13 m South-East

Direction Q.Nos. 88-89: Read the pattern of letters/numbers/terms and find the missing term from the given alternatives:

88. 9, 27, 31, 155, 161, 1127, ?
A) 1135 B) 1288 C) 316 D) 2254
89. Y, B, T, G, O, ?
A) N B) M C) L D) K
90. In the following series some letters are missing which are given in that order as one of the alternatives below it. Choose the correct alternative.
adb_ac_d_bcd_a_bcac_d
A) bacbd B) dbacb C) cbadb D) acbda
91. If P denotes +, Q denotes –, R denotes × and S denotes ÷, then which of the following is correct?
A) 16 R 12 P 49 S 7 Q 9 = 200 B) 32 S 8 R 9 = 160 Q 12 R 12
C) 8 R 8 P 8 S 8 Q 8 = 57 D) 36 R 4 S 8 Q 7 P 4 = 10

92. The age of father 10 years ago was thrice the age of his son. Ten years hence, father's age will be twice that of his son. The ratio of their present ages is :
 A) 5 : 2 B) 7 : 3 C) 9 : 2 D) 13 : 4

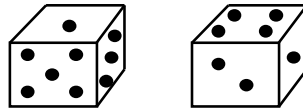
Direction (Q.Nos. 93 to 95): A survey of a locality regarding newspaper reading habits shows that: newspaper A is read by 26%; newspaper B is read by 25%; newspaper C is read by 14%; newspaper A and B are read by 11%; Newspaper B and C are read by 10%; Newspaper C and A are read by 9% and newspaper C only is read by 0%.

93. The percentage of readers who read all the three newspapers is
 A) 10 B) 4 C) 5 D) 6
94. The percentage of readers who read at most one newspaper is
 A) 20 B) 80 C) 60 D) None of the above
95. The percentage of reader who read at least two newspapers is
 A) 15 B) 16 C) 20 D) None of the above
96. How many times are the two hands of a clock at right angles in a day ?
 A) 24 B) 48 C) 22 D) 44
97. Calendar for the year 2014 will be the same for the year:
 A) 2018 B) 2020 C) 2022 D) none of the above
98. Choose the alternative which most closely resembles the mirror-image of word PAINTED

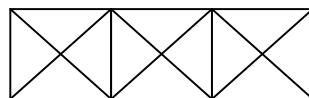
(A) **ƎTNIAP**
 (C) **ƎITNIP**

(B) **ƎITNIP**
 (D) **ƎTNIAP**

99. Two positions of a dice are shown below. When there are two dots at the bottom, the number of dots at the top will be



- A) 2 B) 3 C) 5 D) 6
100. How many triangles are there in the given figure?



- A) 28 B) 24 C) 25 D) 26
101. Which one of the following is the main objective of teaching ?
 A) To develop thinking power of the students B) To give information related to the syllabus
 C) To dictate notes to the students D) To prepare students to pass the examination
102. Which of the following statements regarding "Memory Level of Teaching" (MLT) is incorrect ?
 A) Memory is the initial stage of teaching
 B) Memory Level of Teaching mainly depends on the prevailing socio-economic conditions
 C) MLT includes the habit of rote memorization of facts and bits of information
 D) MLT enables the learner to retain and also reproduce the learnt material whenever required

103. Which of the following statements regarding “Understanding Level of Teaching” (ULT) is incorrect ?
- A) Morrison is the main proponent of ULT
 - B) It is ‘memory plus insight’ as it goes beyond just the memorizing of facts. It focuses on the mastery of the subject
 - C) Cultural materialism is also a primary determining factor of ULT
 - D) It provides more and more opportunities for the students to develop the intellectual behavior
104. Which of the following statements regarding ‘ Reflective Level of Teaching’(RLT) is incorrect ?
- A) Hunt is the main proponent of RLT
 - B) It is problem - centred teaching
 - C) The students are assumed to adopt some sort of research approach to solve the problem
 - D) The teacher assumes the primary place and the pupil occupies the secondary place
105. Which of the following is not a domain or category of instructional objectives according to Bloom et al ?
- A) Socio-Political Domain
 - B) Cognitive Domain
 - C) Affective Domain
 - D) Psychomotor Domain
106. Which of the following is not one of the advantages of “Lecture Method”?
- A) It is economical as it can cover large audience in less time
 - B) It promotes social cohesion among the pupils
 - C) It is useful for stimulating further learning
 - D) It has the flexibility for adapting the lecture according to time and equipment available
107. Which one of the following is not one of the advantages of ‘TV or Video Presentation’ as a teaching method?
- A) Many important personalities and experts are brought to the classroom through video-presentation
 - B) This method is specifically useful for adult learners
 - C) It promotes a sort of nativism among the learners
 - D) Illustrated lectures and demonstrations can be supplemented by other teaching aids such as slides, models, specimens, etc.
108. Which one of the following is not one of the advantages of ‘Team Teaching Method’?
- A) It helps in sharing the best faculty by more students
 - B) It involves optimum use of teaching techniques and devices
 - C) It improves the teaching quality
 - D) It affects the socio-economic conditions of the pupils
109. Which one of the following is not one of the advantages of ‘Group Discussion Method’ ?
- A) It flattens out the ideological differences of the pupils
 - B) It can be planned where there is certainty about the conclusions and objectives. The discussion is guided by the trainer in an appropriate sequence
 - C) It promotes communication and interaction within a group around a topic or problem presented to the group
 - D) It can also be unplanned where the topic presented for discussion is without any opening statement and discussion that follows is entirely spontaneous

110. Which one of the following is not one of the advantages of the “Case Study Method”?
- A) It provides opportunity to the participants to critically analyze the problem and express reasoned opinions
 B) It promotes gender-sensitivity among the pupils
 C) It enhances decision –making and problem-solving skills
 D) It ensures active participation, which may lead to innovative solutions
111. Which one of the following is not one of the functions of ‘ Evaluation’ ?
- A) Feedback B) Motivation C) Ideological indoctrination D) Better guidance.
112. Who among the following is considered a proponent of the Wardha Education System?
- A) Sri Aurobindo B) S. Radhakrishnan C) J.Krishnamurti D) Mahatma Gandhi
113. Who among the following was the main proponent of the Kindergarten system of education?
- A) Froebel B) Rousseau C) Maria Montessori D) John Dewey
114. Which of the following is not one of the “Projected Visual Aids” ?
- A) Slides B) Bar Chart C) Handheld Projector D) Video Projector
115. Which of the following is an independent variable in teaching-learning process?
- A) Student B) Institution C) Teacher (D) Parents
116. The highest level of cognitive domain is:
- A) Synthesis B) Analysis C) Comprehensive D)Evaluation
117. Who has the least chance of becoming an effective teacher ?
- A) One who has no interest in teaching B) One who is a strict disciplinarian
 C) One who neglects teaching D) One who knows his subject well
118. Books can be a powerful source of communication, provided:
- A) The content is abstract B) The content is illustrative
 C) The medium is Hindi D) The print quality of the book is good
119. Good teaching is best reflected by:
- A) Attendance of students B) Number of distinctions
 C) Meaningful questions asked by students D) Pin-drop silence in the class
120. The ability to locate, evaluate and effectively use information is an important trait known as :
- A) Critical thinking B) Information literacy
 C) Number of distinctions D) Selective attention

Section – B

41. अति-चालकता भौतिक गुण है जिसको किस से संबंधित किया जाता है:
- A) किसी पदार्थ को प्रावस्था परिवर्तन के बिना ठंडा करना B) घर्षण के बिना तरल प्रवाह
 C) ताप प्रतिरोध की हानि D) विद्युत् प्रतिरोध की हानि
42. प्लास्टिक की किस्म जो जैव-निम्नीकरणीय है और हाल ही में समाचारों में रही है। जो संघटक इसे जैव-निम्नीकरणीय बनाता है, वह है:
- A) वनस्पति तेल B) पेट्रोलियम C) कॉर्नस्टार्च D) चमड़ा
43. एक ग्राम के भार में कितने डाइनज़ हैं:
- A) 900 B) 375 C) 981 D) 250
44. यदि पृथ्वी और सूर्य में दोगुनी दूरी होती जितनी अब है, तो पृथ्वी पर सूर्य द्वारा लगाया गुरुत्वाकर्षण बल होगा:
- A) जितना अब है उस से दोगुना बड़ा B) जितना अब है, उस से चार गुना
 C) जितना अब है, उस से आधा D) जितना अब है, उस से एक-चौथाई

45. वह पहला भारतीय कौन था जिस का ब्रिटिश संसद में चयन किया गया था:
A) दादाभाई नारोजी B) जी. के. गोखले C) बिपिन चन्द्रपाल D) लाला लाजपत राय
46. किस राजपूत वंश ने अकबर के आगे आत्मसमर्पण नहीं किया था:
A) परमार B) प्रतिहार C) राठौर D) सिसोधिया
47. कौन-सी भाषा भारत की क्लासिकी भाषा नहीं है:
A) संस्कृत B) तेलुगु C) हिन्दी D) मलयालम
48. कालप्रभावन के वैज्ञानिक अध्ययन को कहते हैं:
A) हेतुविज्ञान B) जराविज्ञान C) अस्थिविज्ञान D) विरूपिता - विज्ञान
49. किस भारतीय कलाकार ने सविधान की हस्तलिखित कॉपी को अलंकृत किया था:
A) नंदलाल बोस B) मिहिर सेन C) एस. एन. बैनर्जी D) मुकेश बन्दोपाध्याय
50. भारत के सविधान की प्रस्तावना का संशोधन कितनी बार किया गया है:
A) एक बार B) दो बार C) तीन बार D) कभी नहीं
51. किन्हीं 'Bretton Woods Twins' का उपनाम दिया जाता है:
1. IDA 2. IMF 3. IBRD 4. WTO
A) 1 और 4 B) 3 और 4 C) 2 और 4 D) 2 और 3
52. भारतीय दंड संहिता की धारा 498 ए लोकप्रिय धारा है। यह किस से संबंधित है:
A) महिलाओं के सम्पत्ति अधिकार B) महिलाओं के लिए आरक्षण
C) दहेज के लिए उत्पीड़न D) अपहरण और बलात्कार
53. संयुक्त राष्ट्र जलवायु परिवर्तन सम्मेलन COP19 अथवा CMP9 नवंबर 2013 में कहाँ पर हुआ था:
A) पेरिस B) वारसा C) मॉन्ट्रियल D) कयोटो
54. भारत में अनुमोदित शेयर बाजारों की संख्या है:
A) 19 B) 20 C) 23 D) 24
55. किस राज्य को रेलवे नेटवर्क में पहली बार लाया गया है:
A) मणिपुर B) असम C) त्रिपुरा D) अरुणांचल प्रदेश
56. 2013 के लिए शान्ति निरस्त्रीकरण और विकास के लिए आकाशित इन्दिरा गाँधी पुरस्कार के लिए हाल ही में किस का चयन किया गया है:
A) इला भट्ट B) मेधा पाटेकर C) एन्जेला मर्केल D) चंडी प्रसाद भट्ट
57. विक्टोरिया अज़ारेन्का, जिस ने आस्ट्रेलियन ओपन टेनिस महिला सिंगलज़ पद 2012 जीता है, कहाँ से है:
A) यू. एस. ए. B) बेलारस C) जर्मनी D) स्लोवाकिया
58. राष्ट्रीय खेल दिवस कब मनाया जाता है:
A) 29 अगस्त B) 29 जुलाई C) 29 सितंबर D) 20 अगस्त
59. सोनल मानसिंह नृत्य के किस रूप के लिए प्रसिद्ध है:
A) भारतनाट्यम B) मणिपुरी C) कुचिपुड़ि D) कथक
60. मिस मीरा साहिब फातिमा बीवी किस के लिए पहली महिला के रूप में प्रतिष्ठित है:
A) उच्च न्यायालय की न्यायाधीश B) राज्य की राज्यपाल
C) सर्वोच्च न्यायालय की न्यायाधीश D) बांग्लादेश की प्रधान मन्त्री

61. लोकसभा सीट के लिए अधिकतम मतदान खर्च, भारत के निर्वाचन आयोग के सुझाव पर केन्द्रीय मन्त्री मण्डल द्वारा बढ़ा दिया गया है:
- A) 30 लाख से 70 लाख तक B) 40 लाख से 70 लाख तक
C) 50 लाख से 70 लाख तक D) 40 लाख से एक करोड़ तक
62. आर्थिक स्वाधीनतासूचकांक के अनुसार देशों की रैंकिंग को कौन-सी एजन्सी निर्धारित करती है:
- A) वर्ल्ड इकनॉमिक फोरम B) UNDP C) हेरिटेज फाउंडेशन एण्ड वॉल स्ट्रीट जर्नल D) विश्व बैंक
63. विश्व जनसंख्या दिवस कब मनाया जाता है:
- A) 31 मई B) 11 जुलाई C) 4 अक्टूबर D) 10 दिसंबर
64. ICC T-20 विश्व कप 2014 में एक पाली में दौड़ों का उच्चतम व्यक्तिगत अंक क्या था:
- A) 101 B) 106 C) 111 D) 116
65. राजकोषीय नीति किस से संबंधित है:
- A) अर्थव्यवस्था में मुद्रा की आपूर्ति B) बैंकिंग प्रणाली का विनियमन
C) आर्थिक विकास के लिए आयोजन D) सरकार की आय और खर्च
66. किस अमरीकी राष्ट्रपति ने डा. मनमोहन सिंह का हाल ही में रूपचित्र बनाया है:
- A) बराक ओबामा B) जॉर्ज बुश C) बिल क्लिंटन D) रोनाल्ड रीगन
67. अफ्रीकी महाद्वीप में सब से बड़ी अर्थव्यवस्था कौन-सी है:
- A) दक्षिण अफ्रीका B) नाइजेरिया C) अल्जीरिया D) इनमें से कोई भी नहीं है
68. 'Why I am an Atheist' का लेखक कौन था :
- A) सुभाष चन्द्र बोस B) खुशवंत सिंह C) भगत सिंह D) मदनलाल दींगरा
69. हाल ही में स्थापित 7-वें केन्द्रीय वेतन आयोग का अध्यक्ष कौन है:
- A) अशोक कुमार माथुर B) जी. के. चड्ढा
C) मोन्टेक सिंह आहलूवालिया D) अजीत प्रकाश शाह
70. राष्ट्रीय ग्रामीण रोजगार परियोजना संपूर्ण देश में कब से आरंभ की गई थी:
- A) 1. 04. 2007 B) 02. 10. 2007 C) 14. 11. 2007 D) 01. 04. 2008
71. 'इंग्लैंड' का 'अटलांटिक सागर' से वही संबंध है जो ग्रीनलैंड का संबंध है:
- A) शांत महासागर से B) अटलांटिक महासागर से C) उत्तरध्रुव सागर से D) दक्षिण-ध्रुव सागर से

निर्देश : (प्रश्न नं. 72-73) : नीचे दिए गए चार विकल्पों में से एक को चुनें जो उसी संबंध को दर्शाता है जो चिन्ह :: की बाईं ओर दो अक्षरों/संख्याओं के दरमियान मिलता है:

72. FJUL : BOQQ :: LHRX : ?
- A) BKPR B) MNCC C) HRY Y D) HMNC
73. 9 : 162 :: 8 : ?
- A) 162 B) 128 C) 96 D) 112
74. उस अक्षर-समूह को चुनें जो वही संबंध दर्शाता है जो इस प्रश्न में दिया गया है:
- संवाददाता : समाचार : समाचार पत्र
- A) किसान : फसलें : आहार B) राजगीर : सीमिन्ट : निर्माण
C) बादल : पानी : तालाब D) सड़क : वाहन : गन्तव्य

निर्देश (प्रश्न नं. 75-76) दिए गए चार विकल्पों में से तीन विकल्प एक तरीके से समान हैं और इस तरह एक समूह बनाते हैं। उस विषम मद् को मालूम करें जो इस समूह से संबंधित नहीं है।

75. A) 62 B) 42 C) 152 D) 110
76. A) जावा B) श्रीलंका C) मलेशिया D) क्यूबा
77. एक विशेष कोड भाषा में, 'lu ra de' का मतलब है 'what was it'; 'mo nil' का मतलब है 'you go'; 'nil pam ra' का मतलब है 'you like it' और 'tok lu fo' का मतलब है 'she was sick' आप उस कोड में 'what you like' को कैसे लिखेंगे:
A) nil ra lu B) pom nil ra C) pom ra lu D) de nil pam
78. यदि 'MOUSE' को 'PRUQC' के रूप में कोडबद्ध किया जाता है, तो उसी कोड में 'SHIFT' को कैसे लिखा जाता है:
A) VKIRD B) VKIDR C) VJIDR D) VIKRD
79. 'ATLE' अक्षरों से अंग्रेजी के कितने अर्थपूर्ण शब्द बन सकते हैं, परन्तु हरेक अक्षर का हरेक शब्द में केवल एक बार ही प्रयोग करना है:
A) दो B) तीन C) चार D) चार से अधिक
80. एक पार्किंग स्थान में एक पक्ति में 36 वाहन खड़े किए गए हैं। पहली कार के बाद, एक स्कूटर है, दूसरी कार के बाद दो स्कूटर हैं, तीसरी कार के बाद तीन स्कूटर और इत्यादि। पक्ति के दूसरे आधे भाग में स्कूटरों की संख्या को मालूम करें:
A) 10 B) 12 C) 15 D) 17

निर्देश: (प्रश्न नं. 81-83): छह नाटकों A, B, C, D, E, और F को 2 जून से 7 जून तक अर्थात् सोमवार से शनिवार तक — एक नाटक प्रति दिन — आयोजित करना है। C और D के दरमियान दो नाटक हैं और A एवं C के दरमियान एक नाटक है। F और E के दरमियान एक नाटक है और E को F से पहले आयोजित करना है। B को A से पहले आयोजित करना है, पर ज़रूरी नहीं कि तुरन्त करना है। नाटकों का क्रम B से आरंभ नहीं होता।

81. नाटकों का क्रम किस नाटक से आरंभ होगा:
A) A B) F C) D D) निर्धारित नहीं किया जा सकता
82. नाटक E को किस तारीख को आयोजित करना है:
A) दूसरी B) चौथी C) तीसरी D) निर्धारित नहीं कि जा सकती
83. नाटकों के क्रम का किस नाटक से अंत होगा:
A) A B) D C) B D) निर्धारित नहीं किया जा सकता
84. B, C, D, E, F, G, H, J एक दायरे में केंद्र के सम्मुख बैठे हैं। B, F और C का निकटतम पड़ोसी है। E, F के बाएँ से दूसरा है। G, C के दाएँ से दूसरा है। D, G का निकटतम पड़ोसी नहीं है। C और J के दरमियान दो व्यक्ति हैं। C और D के दरमियान कितने व्यक्ति हैं:
A) केवल 2 B) केवल 4 C) केवल 5 D) या 2 या 4

85. यदि $A + B$ का मतलब है कि A, B का पिता है; ' $A-B$ ' का मतलब है कि A, B की पत्नी है, ' $A \times B$ ' का मतलब है कि A, B का भाई है और ' $A \div B$ ' का मतलब है कि A, B की बेटी है। तो ' $P \div R + S + Q$ ' के लिए कौन-सा सही है:
- A) P, Q की बेटी है
B) Q, P की आंट (पिता की बहन) है
C) P, Q की आंट (पिता की बहन) है
D) P, Q की माता है
86. Q की माता, P की बहन और M की बेटी है। S, P की बेटी और T की बहन है। M का T से क्या रिश्ता है।
A) नानी
B) पिता
C) नाना
D) विकल्प (A) अथवा (C)
87. राम S बिन्दु से पूर्व की तरफ चलना शुरू करता है और 15 m चलने के बाद अपने बाएँ मुड़ता है और 10 m चलता है। फिर वह बाएँ मुड़ कर 10 m चलता है और अंत में अपने बाईं ओर मुड़कर 22 m चलता है और 'Q' बिन्दु तक पहुँचता है। वह 'S' बिन्दु से कितनी दूर और किस दिशा में है:
A) 15 m दक्षिण
B) 22 m दक्षिण-पूर्व
C) 12 m दक्षिण
D) 13 m दक्षिण-पूर्व

निर्देश (प्रश्न नं. 88 - 89) : अक्षरों/संख्याओं/पदों के पैटर्न को पढ़ें और दिए गए विकल्पों से गायब पद को मालूम करें:

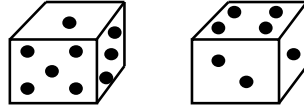
88. 9, 27, 31, 155, 161, 1127, ?
A) 1135
B) 1288
C) 316
D) 2254
89. Y, B, T, G, O, ?
A) N
B) M
C) L
D) K
90. निम्नांकित क्रम में, कुछ अक्षर गायब हैं जो उस क्रम में नीचे दिए एक विकल्प में दिए गए हैं। सही विकल्प को चुनें:
adb_ac_d_bcd_a_bcac_d
A) bacbd
B) dbacb
C) cbadb
D) acbda
91. यदि P का अर्थ + है, Q का अर्थ - है, R का अर्थ \times है, और S का अर्थ \div है, तो निम्नांकित में से कौन-सा सही है:
A) $16 R 12 P 49 S 7 Q 9 = 200$
B) $32 S 8 R 9 = 160 Q 12 R 12$
C) $8 R 8 P 8 S 8 Q 8 = 57$
D) $36 R 4 S 8 Q 7 P 4 = 10$
92. 10 साल पहले पिता की आयु बेटे की आयु से तीन गुना थी। 10 साल के बाद, पिता की आयु बेटे की आयु से दोगुनी होगी। उन की वर्तमान उम्रों का अनुपात है:
A) 5 : 2
B) 7 : 3
C) 9 : 2
D) 13 : 4

निर्देश (प्रश्न नं. 93 - 95): समाचार पत्र पढ़ने की आदतों के लिए एक बस्ती का सर्वेक्षण दर्शाता है कि : समाचारपत्र A को 26% पढ़ते हैं, समाचारपत्र B को 25% पढ़ते हैं, समाचारपत्र C को 14% पढ़ते हैं; समाचार पत्र A और B को 11% पढ़ते हैं; समाचार पत्र B और C को 10% पढ़ते हैं; समाचारपत्र C और A को 9% पढ़ते हैं और समाचारपत्र C को केवल 0% पढ़ते हैं।

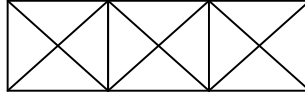
93. जो पाठक सभी तीन समाचारपत्र पढ़ते हैं, उनकी प्रतिशतता है:
A) 10
B) 4
C) 5
D) 6
94. जो पाठक तकरीबन एक समाचारपत्र पढ़ते हैं, उनकी प्रतिशतता है:
A) 20
B) 80
C) 60
D) इनमें से कोई भी नहीं है
95. जो पाठक कम से कम दो समाचारपत्र पढ़ते हैं, उनकी प्रतिशतता है:
A) 15
B) 16
C) 20
D) इनमें से कोई भी नहीं है

96. एक घड़ी की दोनों सुइयाँ एक दिन में कितनी बार समकोण पर होती हैं:
 A) 24 B) 48 C) 22 D) 44
97. 2014 साल का कैलेंडर किस साल के कैलेंडर समान होगा:
 A) 2018 B) 2020 C) 2022 D) इनमें से कोई भी नहीं है
98. उस विकल्प को चुने जो शब्द **PAINTED** के दर्पण-प्रतिबिम्ब से अतिअधिक मिलता है:
 (A) **DETNIAP** (B) **DETNIAP**
 (C) **DETNIAP** (D) **DETNIAP**

99. एक पासे की दो स्थितियों को नीचे दिखाया गया है। जब निचले भाग में दो बिन्दु हों, तो ऊपर वाले भाग में कितने बिन्दु होंगे:



- A) 2 B) 3 C) 5 D) 6
100. निम्नांकित रेखाचित्र में कितने त्रिभुज हैं:



- A) 28 B) 24 C) 25 D) 26
101. अध्यापन का उद्देश्य कौन-सा है:
 A) विद्यार्थियों की चिंतन शक्ति को विकसित करना B) पाठ्यक्रम से संबंधित जानकारी देना
 C) विद्यार्थियों को नोटस लिखाना D) विद्यार्थियों को परीक्षा पास करने के लिए तैयार करना
102. अध्यापन का स्मृति स्तर (MLT) के संबंध में कौन सा कथन सही नहीं है :
 A) स्मृति अध्यापन की आरंभिक अवस्था है
 B) अध्यापन का स्मृति स्तर मुख्यतः प्रचलित सामाजिक-आर्थिक व्यवस्थाओं पर निर्भर करता है
 C) MLT में जानकारी के तथ्यों और अंशों के रटन कंठस्थकरण की आदत सम्मिलित है
 D) MLT शिक्षार्थी को इस योग्य बनाता है कि वे सीखी सामग्री को याद रख सकें और ज़रूरत पड़ने पर इसको दोहरा सकें
103. 'अध्यापन के बोध स्तर (ULT)' के संबंध में कौन-सा कथन सही नहीं है:
 A) ULT का मुख्य प्रस्तावक मॉरिसन है
 B) यह 'स्मृति जमा अन्तर्दृष्टि' है क्योंकि यह सिर्फ तथ्यों के कंठस्थकरण तक ही सीमित नहीं रहती। यह विषय के प्रभुत्व पर केन्द्रित होती है
 C) सांस्कृतिक भौतिकवाद भी ULT का एक प्राथमिक निर्धारक कारक है
 D) यह विद्यार्थियों को बौद्धिक आचरण को विकसित करने में अधिकाधिक अवसर प्रदान करती है
104. 'अध्यापन का विमर्श स्तर (RLT)' के संबंध में कौन-सा कथन सही नहीं है:
 A) RLT का मुख्य प्रस्तावक अन्वेषण है
 B) यह समस्या-केन्द्रित अध्यापन है
 C) विद्यार्थियों को समस्या के समाधान के लिए एक प्रकार का शोध उपागम अपनाना पड़ता है
 D) अध्यापक प्राथमिक स्थान ग्रहण करता है और विद्यार्थी सहायक स्थान ग्रहण करता है

105. ब्लूम और दूसरे लेखकों के अनुसार शैक्षिक उद्देश्यों का क्षेत्र अथवा प्रवर्ग कौन-सा नहीं है -
 A) सामाजिक-राजनीतिक क्षेत्र B) संज्ञानात्मक क्षेत्र
 C) भावपरक क्षेत्र D) मनो-प्रेरक क्षेत्र
106. 'लेक्चर विधि' का फायदा कौन-सा नहीं है:
 A) यह किफायती है क्योंकि यह कम समय में विशाल श्रोता-गण को कवर कर सकती है
 B) यह विद्यार्थियों में सामाजिक संसक्ति को प्रोत्साहित करती है
 C) यह अधिक अधिगम को प्रोत्साहित करती है
 D) इसमें उपलब्ध समय और साज़-सामान के अनुसार अनुकूल बनने की लचक होती है
107. अध्यापन विधि के रूप में 'टी वी अथवा वीडियो प्रस्तुतिकरण' का फायदा कौन-सा नहीं है :
 A) वीडियो प्रस्तुतिकरण के द्वारा अनेक प्रसिद्ध व्यक्तित्वों और विशेषज्ञों को कक्षा में लाया जाता है
 B) यह विधि विशेषतया वयस्क शिक्षार्थियों के लिए उपयोगी है
 C) यह शिक्षार्थियों में एक प्रकार के देशीयतावाद को प्रोत्साहित करती है
 D) सचित्र लेक्चरों और प्रदर्शनों को स्लाइडें, मॉडलों, नमूनों इत्यादि जैसी अध्यापन एडजू से संपूर्ण किया जा सकता है
108. 'समूह अध्यापन विधि' का फायदा कौन-सा नहीं है: :
 A) यह अधिक विद्यार्थियों को उत्तम प्राध्यापक-वर्ग को साझा करने में सहायता करती है
 B) इस में अध्यापन तकनीकों और युक्तियों का अधिकतम उपयोग सम्मिलित होता है
 C) यह अध्यापन गुणता में सुधार लाती है
 D) यह विद्यार्थियों की सामाजिक-आर्थिक परिस्थितियों को प्रभावित करती है
109. 'समूह परिचर्चा विधि' का लाभ कौन-सा नहीं है:
 A) यह विद्यार्थियों की वैचारिक भिन्नताओं को बराबर करती है
 B) जहाँ पर परिणामों और उद्देश्यों के बारे में निश्चितता होती है, वहाँ पर इस की व्यवस्था की जा सकती है। इस परिचर्चा को प्रशिक्षक द्वारा उचित अनुक्रम में निदेशित किया जा सकता है
 C) समूह के सामने प्रस्तुत किये गए विषय अथवा समस्या पर समूह में संचार और अंतर्क्रिया को प्रोत्साहित करती है
 D) जहाँ पर परिचर्चा के लिए प्रस्तुत विषय किसी आरंभिक कथन से मुक्त होता है, वहाँ यह अनियोजित भी की जा सकती है और इस से उत्पन्न परिचर्चा सम्पूर्णतः स्वाभाविक होती है।
110. 'वृत्त-अध्ययन विधि' का लाभ कौन-सा नहीं है:
 A) यह भागीदारों को समस्या का आलोचनात्मक विश्लेषण करने और तर्कसंगत राय देने का अवसर प्रदान करती है
 B) यह विद्यार्थियों में लिंग-सवेदिता को प्रोत्साहित करती है
 C) यह निर्णयन और समस्या-समाधान की कुशलताओं को बढ़ाती है
 D) यह सक्रिय भागीदारी को यकीनी बनाती है जो परिवर्तनकारी समाधान को प्रेरित करती है
111. 'मूल्यांकन' का कार्य कौन-सा नहीं है:
 A) प्रतिपुष्टि B) अभिप्रेरण C) वैचारिक शिक्षण D) बेहतर निर्देशन
112. वार्धा शिक्षा प्रणाली का प्रस्तावक किसे माना जाता है:
 A) श्री आरबिन्दो B) एस. राधाकृष्णन C) जे. कृष्णामूर्ति D) महात्मा गाँधी
113. शिक्षा की किंडरगार्टन प्रणाली का मुख्य प्रस्तावक किसे माना जाता है:
 A) फ्रोबेल B) रूसो C) मारिया मॉन्टेसरी D) जॉहन ड्यूई

114. 'प्रक्षिप्त विजुयल एड' कौन-सी नहीं है:
 A) स्लाइडें B) बार चार्ट C) हाथ में पकड़ा प्रोजेक्टर D) वीडियो प्रोजेक्टर
115. अध्यापन-अधिगम प्रक्रिया में स्वतंत्र चर कौन-सा है:
 A) विद्यार्थी B) संस्था C) अध्यापक D) माता-पिता
116. संज्ञानात्मक क्षेत्र का उच्चतम स्तर है:
 A) संश्लेषण B) विश्लेषण C) व्यापक D) मूल्यांकन
117. प्रभावकारी अध्यापक बनने का न्यूनतम अवसर किसका है:
 A) जिस की अध्यापन में कोई रुचि नहीं है B) जो कठोर अनुशासक है
 C) जो अध्यापन की उपेक्षा करता है D) जो अपना विषय बहुत अच्छी तरह से जानता है
118. पुस्तकें संचार का सशक्त स्रोत हो सकती हैं, बशर्ते कि -
 A) विषयवस्तु अमूर्त हो B) विषयवस्तु निदर्शी हो
 C) माध्यम हिन्दी हो D) पुस्तक की मुद्रण गुणता अच्छी हो
119. अच्छा अध्यापन बढ़िया रूप में किस द्वारा प्रतिबिम्बित होता है:
 A) विद्यार्थियों की उपस्थिति B) विभेदों की संख्या
 C) विद्यार्थियों द्वारा पूछे गए अर्थपूर्ण प्रश्न D) कक्षा में पूर्ण नीरवता
120. सूचना को ढूँढना, मूल्यांकन करना और प्रभावकारी ढंग से उपयोग करना एक महत्वपूर्ण विशेषक है जिसे कहते हैं:
 A) आलोचनात्मक चिंतन B) सूचना साक्षरता
 C) विभेदों की संख्या D) चयनात्मक ध्यान

Section – C (Subject Knowledge)

121. 'साहित्य का इतिहास जनता की चित्तवृत्ति का इतिहास' है - यह कथन किसका है?
 A) डॉ. रामकुमार वर्मा B) आचार्य हज़ारी प्रसाद द्विवेदी C) गणपतिचन्द्र गुप्त D) आचार्य रामचन्द्र शुक्ल
122. निम्नलिखित में से कौन सी रचना हिन्दी साहित्य के इतिहास से सम्बद्ध है?
 A) शिवसिंह सरोज B) मिश्रबन्धु विनोद
 C) हिन्दी साहित्य का आदिकाल D) उपर्युक्त सभी
123. उपन्यास को 'मानव चरित्र का आख्यान' किसने कहा है?
 A) बेकर B) प्रेमचन्द C) रामचन्द्र शुक्ल D) कृष्णा सोबती
124. अधोलिखित उपन्यास व उपन्यासकार में कौनसा विषम संयोजन है?
 A) वैशाली की नगर वधू - जयशंकर प्रसाद B) चित्रलेखा - भगवतीचरण वर्मा
 C) गबन - प्रेमचन्द D) मृगनयनी - वृन्दावनलाल वर्मा
125. समानान्तर कहानी आन्दोलन के प्रवर्तक हैं -
 A) अज्ञेय B) राजेन्द्र यादव C) कमलेश्वर D) धर्मवीर भारती
126. निम्नलिखित में से कौनसी कहानी प्रेमचन्द की नहीं है?
 A) गोदान B) जेल C) नमक का दरोगा D) ईदगाह
127. नाटक को 'पाँचवा वेद' किसने कहा है ?
 A) आचार्य विश्वनाथ B) आचार्य विश्वप्रताप C) पाणिनि D) भरतमुनि

128. निम्नलिखित में से कौनसा नाटक मोहन राकेश का नहीं है?
 A) आषाढ़ का एक दिन B) मेघदूत का सन्देश
 C) लहरों के राजहंस D) आधे-अधूरे
129. निम्नलिखित में कौनसा एकांकी जगदीशचन्द्र माथुर का नहीं है?
 A) भोर का तारा B) रीढ़ की हड्डी
 C) कारवाँ D) खण्डहर
130. नाटक में 'नेपथ्य' से अभिप्राय है -
 A) कलाकार का मेकअप रूम B) वाद्य-यन्त्रों को रखने का स्थान
 C) रंगमंच के पीछे का स्थान D) रंगमंच के सामने दर्शकों का विशिष्ट स्थान
131. रामविलास शर्मा किस प्रकार के निबन्ध-लेखन के लिए प्रसिद्ध हैं?
 A) प्रगतिवादी B) प्रयोगवाद C) भावपूर्ण-निबन्ध D) ललित निबन्ध
132. 'तुम चन्दन हम पानी' निबन्ध-संग्रह किसका है?
 A) विद्यानिवास मिश्र B) कुबेरनाथ राय C) हरिशंकर परसाई D) ठाकुर प्रसाद सिंह
133. राहुल सांकृत्यायन का प्रसिद्ध यात्रा संस्मरण कौनसा है?
 A) हमारा प्रधान उपनिवेश B) यात्रा के पन्ने
 C) लद्दाख-यात्रा की डायरी D) पैरों में पंख बाँधकर
134. 'मेरा परिवार' संस्मरण किसकी कृति है?
 A) प्रेमचन्द B) जैनेन्द्र C) महादेवी वर्मा D) बनारसीदास चतुर्वेदी
135. 'रेखाएँ बोल उठी' रेखाचित्र किसका है?
 A) श्री राम शर्मा B) महादेवी वर्मा C) गोपालराम गहमरी D) देवेन्द्र सत्यार्थी
136. 'कलम का सिपाही' जीवनी में किसके जीवन का वर्णन है?
 A) प्रेमचन्द B) जवाहरलाल नेहरू C) अमृतराय D) महात्मा गाँधी
137. 'क्या भूलूँ क्या याद करूँ' आत्मकथा कितने भागों में है?
 A) दो B) तीन C) चार D) पाँच
138. 'कुटज' निबन्ध-संग्रह किसका है?
 A) पूर्णसिंह B) हजारी प्रसाद द्विवेदी C) विवेकी राय D) कुबेरनाथ
139. अज्ञेय की रचना 'एक बूँद सहसा उछली' साहित्य की कौनसी विधा से सम्बन्धित है -
 A) जीवनी B) आत्मकथा C) यात्रा-साहित्य D) पत्र-साहित्य
140. निम्नलिखित में से कौनसी रचना आदिकाल की नहीं है?
 A) पृथ्वीराज रासो B) विद्यापति पदावली C) पद्मावत D) आल्हाखण्ड
141. आदिकालीन रासो-काव्य किस प्रकार का काव्य है?
 A) खण्ड काव्य B) विविध रसों से मिश्रित रचना C) रसहीन काव्य D) वीर काव्य
142. 'दोहा कोश' के रचयिता हैं?
 A) स्वयंभू B) अमीर खुसरो C) शालिभद्र सूरि D) सरहपा
143. अमीर खुसरो का वास्तविक नाम क्या था ?
 A) कलाकार B) अब्दुल हसन C) मोहम्मद उस्मान D) अब्दुल कलाम

144. कौनसा कवि आदिकाल का है?
A) विद्यापति B) बिहारी C) कबीर D) चिंतामणि
145. सन्तकाव्य व सूफीकाव्य कौनसी काव्यधारा के अन्तर्गत आता है?
A) सगुण B) निर्गुण C) उपर्युक्त दोनों D) इनमें से कोई नहीं
146. भक्तिकालीन निर्गुण भक्त कवि है-
A) नानक B) सूरदास C) विद्यापति D) विट्ठलनाथ
147. रैदास किसके गुरु थे?
A) नानक देव B) सहजोबाई C) मीराबाई D) दादू दयाल
148. सन्तकाव्यधारा के दार्शनिक आधार हैं?
A) उपनिषद् B) सूफी दर्शन C) मात्र 'A' D) 'A' व 'B' दोनों
149. 'अग्रदास' का सम्बन्ध किस काव्य परम्परा से है?
A) कृष्णकाव्य परम्परा B) रामकाव्य परम्परा C) सूफीकाव्य परम्परा D) निर्गुणकाव्य परम्परा
150. गुरुनानक देव का जन्म-स्थान किस नाम से प्रसिद्ध है?
A) नानकतीर्थ B) ननकाना साहब C) गुरुतीर्थ D) ननकाना सरोवर
151. 'तुलसी का सारा काव्य समन्वय की विराट चेष्टा है' - यह कथन किसका है?
A) हजारी प्रसाद द्विवेदी B) रामचन्द्र शुक्ल C) परशुराम चतुर्वेदी D) नन्ददुलारे वाजपेयी
152. 'रामचरितमानस' का काव्य रूप क्या है ?
A) मुक्तक B) महाकाव्य C) खण्डकाव्य D) गीतिकाव्य
153. 'रामचरितमानस' में कुल कितने काण्ड हैं?
A) पाँच B) तीन C) सात D) नौ
154. 'पुष्टिमार्ग' का मूल आधार क्या है?
A) भगवान का अनुग्रह B) ईश्वर का वरदान C) नवधा भक्ति D) ज्ञान प्राप्ति
155. निम्नलिखित में से नन्ददास की कौनसी रचना नहीं है?
A) रासपंचाध्यायी B) मानमंजरी C) भँवरगीत D) मधुमालती
156. मीराबाई का विवाह किससे हुआ था ?
A) राणा सांगा B) भोजराज C) जयमल D) वीरमदेव
157. जायसी की प्रतीक योजना में कौनसा विषम संयोजन है?
A) रत्नसेन - मन B) पद्मावती - सात्विक बुद्धि
C) नागमती - सांसारिक बुद्धि D) राघवचेतन - गुरु
158. जायसी की काव्य-भाषा कौनसी है?
A) अवधी B) ब्रज C) राजस्थानी D) खड़ी बोली हिन्दी
159. 'चन्द्रायन' के रचनाकार हैं -
A) जायसी B) मुल्ला दाऊद C) मंझन D) दामोदर
160. 'आखिरीकलाम' की रचना जायसी ने किस शासक के शासनकाल में की थी?
A) बाबर B) हमायुं C) शेरशाह सूरी D) अकबर
161. इनमें से रीतिसिद्ध कवि कौन है?
A) घनानन्द B) पद्माकर C) बिहारी D) ठाकुर

162. 'कठिन काव्य का प्रेत' किस कवि को कहा गया है?
A) पद्माकर B) घनानन्द C) केशव D) भूषण
163. निम्नलिखित में से 'रीतिकाल' का कवि कौन है?
A) वृन्द B) माधवदास C) नाभादास D) हृदय राम
164. 'कवित्त रत्नाकर' किसकी रचना है?
A) जगन्नाथदास रत्नाकर B) पद्माकर C) सेनापति D) द्विजदेव
165. हिन्दी के किस काल में लक्षण-ग्रन्थों का निर्माण प्रचुरता से हुआ?
A) आधुनिक काल B) भक्तिकाल C) रीतिकाल D) आदिकाल
166. 'चन्द छन्द बरनन की महिमा' के रचयिता कौन हैं?
A) चन्दबरदाई B) गंग कवि C) लाल कवि D) सुरति मिश्र
167. निम्नलिखित में से कौनसी पत्रिका भारतेन्दु युग की नहीं है -
A) कविवचन सुधा B) आनन्द कादम्बिनी C) सरस्वती D) ब्राह्मण
168. आधुनिक काल का जनक किस लेखक को माना जाता है?
A) महावीर प्रसाद द्विवेदी B) भारतेन्दु हरिश्चन्द्र C) रामचन्द्र शुक्ल D) गणपतिचन्द्र गुप्त
169. द्विवेदी युग का नामकरण किस साहित्यकार के नाम पर हुआ?
A) महावीर प्रसाद द्विवेदी B) हज़ारी प्रसाद द्विवेदी C) शान्तिप्रिय द्विवेदी D) इनमें से कोई नहीं
170. मैथिलीशरण गुप्त किस युग के कवि हैं?
A) छायावादी B) प्रगतिवादी C) भारतेन्दु D) द्विवेदी
171. निम्नलिखित में से कौनसी रचना द्विवेदी युग की नहीं है?
A) आँसू B) साकेत C) भारत - भारती D) उद्धव शतक
172. 'राम की शक्तिपूजा' किस कवि की रचना है?
A) मैथिलीशरण गुप्त B) सूर्यकान्त त्रिपाठी 'निराला' C) सुमित्रानन्दन पंत D) तुलसीदास
173. निम्नलिखित में से किस छायावादी कवि को ज्ञानपीठ पुरस्कार मिला है?
A) सुमित्रानन्दन पंत B) महादेवी वर्मा C) केवल 'A' D) 'A' व 'B' दोनों
174. 'हिम किरीटिनी' काव्य-संग्रह के रचनाकार हैं?
A) बालकृष्ण शर्मा 'नवीन' B) माखन लाल चतुर्वेदी C) सुभद्राकुमारी चौहान D) इनमें से कोई नहीं
175. प्रयोगवाद का आरम्भ किस तार सप्तक से हुआ?
A) प्रथम B) द्वितीय C) तृतीय D) इनमें से कोई नहीं
176. अज्ञेय की किस रचना पर उन्हें ज्ञानपीठ पुरस्कार मिला था?
A) इत्यलम B) सुनहरे शैवाल C) बावरा अहेरी D) कितनी नावों में कितनी बार
177. प्रगतिवाद का सम्बन्ध किस दर्शन से है?
A) अद्वैतवाद B) द्वैतवाद C) मार्क्सवाद D) विशिष्टाद्वैतवाद
178. निम्नलिखित में से कौन प्रगतिवादी कवि है?
A) रामधारी सिंह दिनकर B) शिवमंगल सिंह सुमन C) उपर्युक्त दोनों D) केवल 'A'
179. प्रयोगवादी कवियों को 'नई राहों के अन्वेषी कवि' किसने कहा है?
A) अज्ञेय B) रामविलास शर्मा C) डॉ. नगेन्द्र D) नामवर सिंह

180. निम्नलिखित में कौनसी रचना मुक्तिबोध की नहीं है?
A) अंधेरे में B) ब्रह्म राक्षस C) संसद से सड़क तक D) चाँद का मुँह टेढ़ा है
181. हिन्दी के अन्तर्गत कुल कितनी बोलियाँ हैं?
A) दस B) पाँच C) पन्द्रह D) बाईस
182. राजा लक्ष्मण सिंह किस हिन्दी के पक्षधर थे?
A) उर्दू मिश्रित हिन्दी B) संस्कृत निष्ठ हिन्दी C) हिन्दुस्तानी D) ब्रजभाषा
183. सरकारी कामकाज की वह भाषा जिसे संविधान ने सरकारी कामकाज के लिए स्वीकृत किया है क्या कहलाती है?
A) राष्ट्रभाषा B) राजभाषा C) राज्यभाषा D) सम्पर्क भाषा
184. किसी देश के बहुसंख्यक लोगों की भाषा कहलाती है?
A) राजभाषा B) मातृभाषा C) मानक भाषा D) राष्ट्रभाषा
185. हिन्दी दिवस कब मनाया जाता है?
A) 10 सितम्बर B) 14 सितम्बर C) 15 सितम्बर D) 31 सितम्बर
186. निम्नलिखित में से कौन से वर्ण 'आयोगवाह' कहलाते हैं?
A) य, र, ल, व B) श, ष, स, ह C) अं, अः D) ऋ, श्र, त्र
187. राजभाषा आयोग का गठन किसके द्वारा किया गया है?
A) प्रधानमंत्री B) राष्ट्रपति C) शिक्षामंत्री D) संसद
188. जहाँ किसी व्यंजनवर्ण की आवृत्ति हो वहाँ कौनसा अलंकार होता है?
A) अनुप्रास B) यमक C) श्लेष D) दृष्टान्त
189. 'उपमा' अलंकार के कितने अंग होते हैं?
A) दो B) तीन C) चार D) पाँच
190. बर जीते सर मैं के ऐसे देखे मैं।
हरिनी के नैनान तें हरि नीके ये नैन ॥
उक्त दोहे में कौनसा अलंकार है?
A) यमक B) श्लेष C) अतिशयोक्ति D) असंगति
191. शब्द - शक्ति कितने प्रकार की होती है?
A) दो B) तीन C) चार D) छः
192. रचना के अनुसार वाक्य के भेद हैं -
A) उद्देश्य व विधेय B) साधारण व मिश्र
C) साधारण, मिश्र व संयुक्त D) नकारात्मक, सकारात्मक, प्रचारात्मक
193. 'वह आदमी पागल हो गया है' - - वाक्य में 'पागल' क्या है?
A) साधारण उद्देश्य B) साधारण विधेय C) उद्देश्य वर्द्धक D) विधेय - पूरक
194. निम्नलिखित में से विराम चिन्ह नहीं है -
A) अल्प विराम B) पूर्ण विराम C) अवतरण चिन्ह D) निर्देशक
195. कौनसा वाक्य शुद्ध है -
A) रामचरित मानस एक धार्मिक ग्रन्थ है। B) रामचरितमानस एक धार्मिक ग्रन्थ है।
C) राम चरितमानस एक धार्मिक ग्रन्थ है। D) 'रामचरितमानस' एक धार्मिक ग्रन्थ है।

निर्देश: (प्रश्न नं. 196-200): निम्नलिखित अवतरण को पढ़कर सही उत्तर का विकल्प चुनें-

लन्दन शहर टेम्स नदी के किनारे पर बसा हुआ है, जिसका पाट चौड़ा है तथा पानी गहरा। समुद्र तट के निकट होने और टेम्स नदी में काफी पानी रहने के कारण, लन्दन एक विशाल बन्दरगाह भी है। वहाँ रोज सैकड़ों जहाज आते-जाते हैं और दूर से देखने पर टेम्स नदी के ऊपर मस्तूलों का जंगल मालूम होता है। यहाँ से पृथ्वी की सभी दिशाओं को माल आता व जाता है। लन्दन तथा इंगलिस्तान की भोजन सामग्री का बहुत भाग इसी बन्दरगाह पर पहुँचता है। यदि एक सप्ताह के लिए जहाजों का आना-जाना बन्द हो जाए तो देश में त्राहि-त्राहि मच जाए। इसलिए ब्रिटिश सरकार ने अपनी नाविक शक्ति इतनी प्रबल कर ली है कि उससे दुनिया में कोई भी राज्यशक्ति समुद्री युद्ध में टक्कर न ले सके।

196. ब्रिटिश सरकार ने अपनी नाविक शक्ति क्यों इतनी प्रबल बना ली?

- A) कोई शत्रु इसे हरा सके
B) कोई लन्दन पर आक्रमण न कर सके
C) कोई इसके जहाजों का आना जाना न रोक सके
D) लन्दन शहर दुनिया में सबसे बड़ा बन जाए

197. 'मस्तूलों का जंगल' कहने से लेखक का क्या अभिप्राय है?

- A) मस्तूलों की पंक्तियां B) असंख्य मस्तूल C) आकर्षक दृश्य D) मस्तूलों का देवालय

198. 'त्राहि-त्राहि मच जाने' का अर्थ है -

- A) हल्ला मच जाना B) शोर होना C) हंसना-व्यंग्य करना D) हाहाकार मच जाना

199. लन्दन बन्दरगाह कहाँ स्थित है?

- A) समुद्र तट पर B) गहरे पानी पर C) जहाजों के जंगल में D) नदी के तट पर

200. 'टक्कर लेने' का अर्थ है -

- A) तुलना करना B) मुकाबला करना C) लोहा मानना D) टूट जाना

ROUGH WORK

Instructions :

1. Write your roll number on the Question Booklet and also on the OMR Answer Sheet only in the space provided and nowhere else.
2. Enter the Question Booklet Number and Series on the OMR Answer Sheet by darkening the corresponding bubbles with Black/Blue Ball Point Pen only.
3. To open the Question Booklet, remove the Staple Pin gently.
4. Check that the Question Booklet contains 200 Objective Type questions with multiple choice answers. In case of any discrepancy, inform the Invigilator within 10 minutes of the start of test.
5. Each question has four alternative answers A, B, C & D, of which only one is correct. Darken only one bubble A, B, C or D, whichever you think is the correct answer, on the OMR Answer Sheet with BLACK/BLUE BALL POINT PEN only.
6. All questions are of 1 mark each. **THERE IS NEGATIVE MARKING.** 1/4 marks will be deducted for every wrong answer.
7. Rough work is to be done on the question booklet only.
8. Do not make any identification mark on the OMR Answer Sheet or Question Booklet.
9. The Answer Sheet is designed for computer evaluation. If the instructions are not followed properly, the candidate alone shall be responsible for the resultant loss so caused.
10. After the test, hand over the Question Booklet and OMR Answer Sheet to the Invigilator on duty.
11. Telecommunication equipments, such as calculators, pager, cellular phone, wireless & blue tooth devices etc. and weapons are not permitted inside the examination hall.
12. Nothing is to be copied/noted from the given OMR Answer Sheet and Question Booklet, and be taken out of the Examination Hall. Any candidate found doing so would be expelled from the examination.
13. A candidate who creates disturbance of any kind or changes his/her seat, or is found in possession of any paper possibly of any assistance, or found giving or receiving assistance, or found using any other unfair means during the examination will be expelled from the examination. The decision of the Observer shall be final.
14. The candidates will not be allowed to leave the Examination Hall before the expiry of time.

Key TGT(HINDI-12) 1.6.2014

Q.No.	Ans.	Q.No.	Ans.	Q.No.	Ans.	Q.No.	Ans.	Q.No.	Ans.
1	D	41	D	81	C	121	D	161	C
2	B	42	C	82	B	122	D	162	C
3	C	43	C	83	A	123	B	163	B
4	B	44	D	84	D	124	A	164	C
5	C	45	A	85	C	125	C	165	C
6	B	46	B	86	D	126	A	166	B
7	D	47	C	87	D	127	D	167	C
8	C	48	B	88	A	128	B	168	B
9	B	49	A	89	C	129	C	169	A
10	A	50	B	90	C	130	C	170	D
11	C	51	C	91	C	131	A	171	A
12	A	52	C	92	B	132	A	172	B
13	A	53	B	93	C	133	B	173	D
14	B	54	D	94	B	134	C	174	B
15	B	55	D	95	C	135	D	175	A
16	C	56	C	96	C	136	A	176	D
17	A	57	B	97	B	137	C	177	C
18	B	58	A	98	B	138	B	178	C
19	C	59	B	99	B	139	C	179	A
20	C	60	C	100	A	140	C	180	C
21	A	61	B	101	A	141	D	181	D
22	B	62	C	102	B	142	D	182	B
23	C	63	B	103	C	143	B	183	B
24	D	64	D	104	D	144	A	184	D
25	A	65	D	105	A	145	B	185	B
26	B	66	B	106	B	146	A	186	C
27	C	67	B	107	C	147	A	187	B
28	D	68	C	108	D	148	D	188	A
29	A	69	A	109	A	149	B	189	C
30	B	70	D	110	B	150	B	190	A
31	C	71	C	111	C	151	A	191	B
32	D	72	D	112	D	152	B	192	C
33	A	73	B	113	A	153	C	193	D
34	B	74	C	114	B	154	A	194	D
35	C	75	D	115	C	155	D	195	D
36	D	76	C	116	D	156	B	196	C
37	A	77	D	117	A	157	B	197	B
38	B	78	B	118	B	158	A	198	D
39	C	79	C	119	C	159	B	199	D
40	D	80	C	120	D	160	A	200	B